

2021 年

登録ランドスケープアーキテクト(RLA)資格認定試験

登録ランドスケープアーキテクト補(RLA補)資格認定試験

## 一次試験（その1）問題用紙

### 注意事項

- ① 本試験は、No. 1～No. 80 の 80 問で、解答時間は1時間 20 分(80 分)です。
- ② 問題は全問必須ですから、80 問すべて解答してください。なお、配点は1問1点で、80 点満点です。
- ③ 解答用紙(マークシート)に受験番号・氏名を記入し、受験番号欄は、該当番号もぬりつぶしてください。
- ④ 解答は、解答用紙(マークシート)に HB の鉛筆または芯が HB のシャープペンシルで記入してください。
- ⑤ 解答のぬりつぶし方は、解答用紙のぬりつぶし例を参照してください。
- ⑥ 当該問題番号の解答記入欄の正解と思う数字を1つぬりつぶしてください。なお、正解は1問につき1つしかありませんので、2つ以上ぬりつぶした場合は正解としません。
- ⑦ 解答を訂正する場合は、消しゴムできれいに消してから訂正してください。消し方が不十分な場合は、2つ以上解答したこととなり正解としません。
- ⑧ この問題用紙の余白は、計算等に使用してもさしつかえありません。ただし、解答用紙(マークシート)は、計算等に使用しないでください。
- ⑨ 試験終了後は、解答用紙(マークシート)を裏返して机の上に置いてください。係員が回収するまでそのままお待ちください。
- ⑩ この問題用紙は、試験終了時刻まで在席した方のうち、希望者に限り、持ち帰りを認めます。途中退席した場合は、持ち帰ることはできません。



No.1

登録ランドスケープアーキテクト(R L A)の資格に関する記述として、**適切でないもの**を下記より1つ選びなさい。

- ① 国土交通省の「公共工事に関する調査及び設計等の品質確保に資する技術者資格」に登録されている
- ② 都市公園等の計画・調査・設計等の業務において、管理技術者や照査技術者となることができる
- ③ R L A補を取得しても、R L A資格認定試験受験のために必要な業務経験年数は変わらない
- ④ 登録更新には3年間で150単位以上のC P D単位の取得が求められる

No.2

ランドスケープアーキテクトが扱うデザインとして、**適切でないもの**を下記より1つ選びなさい。

- ① 「命ある素材」を効果的に扱うデザイン
- ② 地域の歴史文化に根差したデザイン
- ③ 生態系の構造や機能を活かしたデザイン
- ④ 建物の構造に関するデザイン

No.3

「造園C P D制度」においてC P D単位の対象となる活動として、**適切でないもの**を下記より1つ選びなさい。

- ① 建設系C P D協議会加盟団体の認定プログラムである講習会の受講
- ② 社内研修会等の内部講師
- ③ 日常的業務として行う公園詳細設計
- ④ R L A資格認定に係る採点や問題作成

No.4

公共事業における「入札・契約方式」に関する記述として、**適切なもの**を下記より1つ選びなさい。

- ① 「一般競争入札」とは、発注者が指名した特定多数の者で競争を行わせる
- ② 「指名競争入札」とは、資格要件を満たした参加申込み者で競争を行わせる
- ③ 「随意契約方式」とは、発注者が任意に特定の者を選定して契約する
- ④ 「総合評価落札方式」とは、技術提案を募集し、最も優れた提案者と価格や施工方法等を交渉し契約する

No.5

「指定管理者制度」に関する記述として、**適切でないもの**を下記より1つ選びなさい。

- ① 公の施設の設置の目的を効果的に達成するための制度である
- ② 指定管理者は議会の議決を経て指定される
- ③ 指定管理者の指定は、期間を定めない
- ④ 民間事業者等から幅広く求めることに意義がある

No.6

「設計業務等積算基準」に関する記述として、**適切でないもの**を下記より1つ選びなさい。

- ① 「業務原価」は、「直接原価」および「一般管理費等」からなる
- ② 「直接人件費」は、業務に従事する者の人件費である
- ③ 「直接経費」は、業務実施に必要な経費である
- ④ 「一般管理費」は、当該業務担当部署以外の経費である

No.7

設計業務における「照査技術者」に関する記述として、**適切なもの**を下記より1つ選びなさい。

- ① 担当技術者は、照査技術者を兼任することができる
- ② 業務の節目毎にその成果の確認を行う
- ③ 照査報告書を取りまとめ、署名捺印のうえ担当技術者に提出する
- ④ 業務の進捗状況に応じ、適宜変更することができる

No.8

国土交通省の「土木設計業務等共通仕様書（案）」で定める業務計画書に記載すべき項目として、**適切でないもの**を下記より1つ選びなさい。

- ① 担当技術者の業務経歴
- ② 業務組織計画
- ③ 成果物の内容や部数
- ④ 連絡体制（緊急時含む）

No.9

「新技術情報提供システム（NETIS）」に関する説明として、**適切でないもの**を下記より1つ選びなさい。

- ① 新技術の活用促進のため、新技術に係る情報の共有及び提供を目的とする
- ② 国土交通省のイントラネット及びインターネットで運用される
- ③ 有用な新技術として登録された情報は、無期限で掲載される
- ④ 復旧・復興に資する技術を広く情報提供するページが設けられている

No.10

設計業務の完了時の記述として、**適切でないもの**を下記より1つ選びなさい。

- ① 受注者は、業務の完了時にコリンズ（CORINS）の完了登録を行う
- ② 完了検査は、調査職員及び管理技術者の立会の上実施する
- ③ 電子納品の検査は、発注者と受注者との事前協議で決定した方法により行う
- ④ 検査時に、修補の指示があった場合は、速やかに行う

No.11

土木設計業務の成果物と著作権に関する記述として、**適切なもの**を下記より1つ選びなさい。

- ① 発注者は、受注者が成果物の作成にあたり開発したプログラムを受注者の承諾なしで利用できる
- ② 発注者は、成果物の内容を受注者の承諾なく自由に公表することができる
- ③ 受注者は、成果物引渡し時に発注者に別途費用を請求することができる
- ④ 受注者は、発注者の承諾なく、当該成果物を使用または複製および公表できる

No.12

国土交通省「地方整備局委託業務等成績評定要領の改正について」における業務成績評定のうち、担当技術者の評価対象項目として、**適切でないもの**を下記より1つ選びなさい。

- ① 目的と内容の理解
- ② 業務実施体制の的確性
- ③ 責任感、積極性、発注者側の視点
- ④ 業務目的の達成度

No.13

「建設業法」に関する以下の記述において、A～Cに該当する語句の組合せとして、**適切なもの**を下記より1つ選びなさい。

「A」は建設工事の注文者をいい、「B」は下請契約における注文者で建設業者であるものをいい、「C」は下請契約における請負人をいう。

- ① A：元請負人 B：発注者 C：下請負人
- ② A：発注者 B：元請負人 C：下請負人
- ③ A：元請負人 B：下請負人 C：孫請負人
- ④ A：発注者 B：請負人 C：孫請負人

No.14

令和元年6月に施行された「公共工事の品質確保の促進に関する法律（品確法）の一部を改正する法律」に示される主な内容として、**適切でないもの**を下記より1つ選びなさい。

- ① 災害時の緊急対応の充実強化
- ② 働き方改革への対応
- ③ 経済活動向上への取組み
- ④ 調査・設計の品質確保

No.15

「公共工事における総合評価方式活用ガイドライン」における「総合評価方式」について、**適切なもの**を下記より1つ選びなさい。

- ① 公共工事の品質確保のための取組みである
- ② 落札者の決定は、技術提案の優劣だけで評価する
- ③ 談合が行われやすい
- ④ 大規模な公共工事のみに適用する

No.16

「景観に配慮した道路附属物等ガイドライン」において、景観に配慮した色彩に関する記述として、**適切でないもの**を下記より1つ選びなさい。

- ① ダークグレー、ダークブラウンなどがある
- ② 土や岩、樹木の幹等の自然に近い色彩を基調色としている
- ③ 伝統的な街並みや現代の建物の外壁は彩度・明度ともに高い色彩が比較的多い
- ④ 地域の特性に応じた適切な色彩を選定することを基本としている

No.17

都市のアメニティ空間を形成する項目として、**適切でないもの**を下記より1つ選びなさい。

- ① 住環境の快適性や居住性の良さ
- ② その土地に快適性を生み出す施設、環境
- ③ 機能性や経済性を優先した空間づくり
- ④ 周囲の景観など、社会生活の中に心地よさ

No.18

黄金比の比率として、**適切なもの**を下記より1つ選びなさい。

- ① 1:0.872
- ② 1:1.618
- ③ 1:2.461
- ④ 1:3.695



No.19

庭園の造形手法の用語とその説明の組合せとして、**適切でないもの**を下記より1つ選びなさい。

- ① 野筋 … 視線を集めダイナミックな勢いを表現する手法
- ② 結界 … 視覚的に連続しながら区切る手法
- ③ 囲繞 … 地形や竹垣、生垣で囲いをつくり、空間に安定性を与える手法
- ④ 縮景 … 各地の風景や名所を箱庭のように縮小化して取り込む手法

No.20

茶事における露地の約束事として、**適切でないもの**を下記より1つ選びなさい。

- ① 打ち水は用意が整っていないことを表す
- ② 関守石は進入禁止を表す
- ③ にじり口の「手がかり」は、「お入りください」を表す
- ④ 床の間の軸や道具立ては、亭主が用意したテーマを表す

No.21

沿道における遮熱対策として、**適切でないもの**を下記より1つ選びなさい。

- ① 遮熱性舗装の敷設
- ② ドライミストの設置
- ③ ナイトパーズの採用
- ④ 緑陰を確保する街路樹の維持管理

No.22

防火樹として最も効果が期待できる樹種として、**適切なもの**を下記より1つ選びなさい。

- ① 常緑広葉樹
- ② 落葉広葉樹
- ③ 常緑針葉樹
- ④ 落葉針葉樹

No.23

都市緑化の効果のうち、生理的・心理的效果を示すものとして、**適切でないもの**を下記より1つ選びなさい。

- ① 都市の温暖化をやわらげ、清涼感が得られる効果
- ② 人々を惹きつける効果
- ③ 多様な生き物を生息させる効果
- ④ 精神的・肉体的な疲労感をやわらげる効果






No.24

景観の演出で用いられる方法として、**適切でないもの**を下記より1つ選びなさい。

- ① シークエンス景観
- ② パノラマ景観
- ③ バーズビュー景観
- ④ シーン景観

No.25

近年、国土地理院により決定された外国人向けの地図記号として、**適切でないもの**を下記より1つ選びなさい。

- ① 博物館/美術館 … 
- ② 神社 … 
- ③ トイレ … 
- ④ 観光案内所 …  

No.26

近隣公園（120m×170m）をA1サイズの図面にレイアウトする際の縮尺として、**適切なもの**を下記より1つ選びなさい。

- ① 1/50
- ② 1/100
- ③ 1/400
- ④ 1/1,000

No.27

測量図の記号とその解説の組合せとして、**適切でないもの**を下記より1つ選びなさい。

- ① FL … 建築物床面の高さ
- ② EL … 建築物天井の高さ
- ③ GL … 造成前の地盤面の高さ
- ④ FH … 造成後に計画している高さ

No.28

用語とその解説の組合せとして、**適切でないもの**を下記より1つ選びなさい。

- ① C I M … 公共事業支援統合情報システム
- ② G I S … 地理情報システム
- ③ 3 D C A D … コンピュータによる3次元設計支援ツール
- ④ i-Construction … 建設生産システム全体の生産性向上と魅力ある建設現場を目指す取組み

No.29

計画・設計のために必要な基礎資料とその内容の組合せとして、**適切でないもの**を下記より1つ選びなさい。

- ① 自然的条件 … 地形、植生、交通網など
- ② 定性的な判断資料 … 利用者のアンケート
- ③ 社会的条件 … 上位計画、法律など
- ④ 敷地の条件 … 供給処理施設（水道、電気など）

No.30

屋上緑化の計画・設計にあたり留意すべき項目として、**適切でないもの**を下記より1つ選びなさい。

- ① 現況土など入手しやすい客土を用いた施工方法
- ② 中木や高木では、風による倒木対策
- ③ 雨水排水系統、ドレインの位置と数
- ④ 自動灌水装置のための給水設備と電源の確保

No.31

「緑の基本計画」に関する説明として、**適切でないもの**を下記より1つ選びなさい。

- ① 緑地保全や緑化推進のための施策
- ② 都道府県が目標や施策を定める
- ③ 生物多様性の保全に向けた取組みを促進
- ④ 市民意見を反映するために必要な措置を講ずる

No.32

防災公園に設置する施設と災害時に求められる機能の組合せとして、**適切でないもの**を下記より1つ選びなさい。

- ① 外周植栽 … 延焼防止や輻射熱を遮断する
- ② 池 … 夏の暑さをしのぐ
- ③ 芝生広場 … テント設営などの防災拠点
- ④ 管理施設 … 備蓄倉庫を兼ねた施設

No.33

パークマネジメントが目指す各主体の組合せとして、**適切なもの**を下記より1つ選びなさい。

- ① 行政
- ② 行政 + 企業
- ③ 行政 + 市民 + 企業 + NPO
- ④ 行政 + 企業 + NPO

No.34

都市公園における官民連携手法として、**適切でないもの**を下記より1つ選びなさい。

- ① P F I
- ② 指定管理者制度
- ③ パークマネジメント
- ④ L C C

No.35

平成29年の「都市公園法」の改正により、都市公園の占用が可能となった社会福祉施設として、**適切でないもの**を下記より1つ選びなさい。

- ① 学童クラブ
- ② 身体障害者福祉センター
- ③ 幼保連携型認定こども園
- ④ 特別養護老人ホーム

No.36

都市緑地法による「緑地保全地域」において届出が必要な行為として、**適切でないもの**を下記より1つ選びなさい。

- ① 宅地の造成、土地の開墾、土石の採取及び採掘
- ② 立ち木や生垣の剪定
- ③ 建築物の新築、改築または増築
- ④ 水面の埋め立てまたは干拓

No.37

緑が不足している市街地などにおいて、敷地面積の一定割合以上の緑化を義務づける制度の名称として、**適切なもの**を下記より1つ選びなさい。

- ① 緑化地域制度
- ② 風致地区制度
- ③ 生産緑地制度
- ④ 管理協定制度

No.38

都市の緑地を評価、認証する制度として、**適切でないもの**を下記より1つ選びなさい。

- ① 社会・環境貢献緑地評価システム
- ② ヒートアイランド対策認証制度
- ③ ハビタット評価認証制度
- ④ A B I N C 認証 (いきもの共生事業所®認証)

No.39

社会・環境貢献緑地評価システム ( S E G E S ) の説明として、**適切でないもの**を下記より1つ選びなさい。

- ① 自らが保有する土地で、緑地の保存・創出活動を行っている企業等を評価する
- ② 「そだてる緑」・「都市のオアシス」・「つくる緑」の3種類がある
- ③ 日頃の活動や取組みを評価し、社会・環境に貢献している緑地を認定する
- ④ 認定は、その企業に対する地元住民によるアンケートや投票によって行う

No.40

事業の経済学的な効率性を評価する算定式「 $A/B=C$ なら事業実施効果あり」に示されるA～Cに該当する語句の組合せとして、**適切なもの**を下記より1つ選びなさい。

- ① A：便益 B：費用 C：1.0以上
- ② A：費用 B：便益 C：1.0
- ③ A：費用 B：便益 C：1.0以上
- ④ A：便益 B：費用 C：1.0以下

No.41

「古都における歴史的風土の保存に関する特別措置法（古都保存法）」における古都の指定基準として、**適切でないもの**を下記より1つ選びなさい。

- ① 文化的資産が集積し、広範囲にわたり自然環境と一体化した「歴史的風土」を形成している都市
- ② わが国往時の政治や歴史・文化の中心であった都市
- ③ 歴史的な建造物や遺跡の周辺に新たな緑地や公園を創出した都市
- ④ 市街化が顕著で「歴史的風土」の侵犯のおそれがあるため、対策を講ずる必要のある都市

No.42

「地域における歴史的風致の維持及び向上に関する法律（歴史まちづくり法）」に基づく歴史的風致維持向上計画の支援措置として、**適切でないもの**を下記より1つ選びなさい。

- ① 景観改善推進事業
- ② 古都保存事業
- ③ 歴史的観光資源高質化支援事業
- ④ 街なみ環境整備事業



No.43

「国土利用計画法」の基本理念として、**適切でないもの**を下記より1つ選びなさい。

- ① 公共の福祉を優先させる
- ② 自然環境の保全を図る
- ③ 健康で文化的な生活環境の確保と国土の均衡ある発展を図る
- ④ 国民経済の発展に資する

No.44

森林が持つ水源涵養機能として、**適切でないもの**を下記より1つ選びなさい。

- ① 森林が保持する水分により森林火災を防止する機能
- ② 河川へ流れ込む雨水を平準化して洪水を緩和する機能
- ③ 雨水が森林土壌を通過することで水質を浄化する機能
- ④ 森林の土壌が雨水を貯留する水資源を貯留する機能

No.45

グリーンインフラの説明として、**適切でないもの**を下記より1つ選びなさい。

- ① 持続可能な魅力ある国土・都市・地域づくりを進める取組み
- ② 緑・水・土などの自然環境が有する単一の機能を積極的に活用する考え
- ③ 人工構造物とグリーンインフラ双方を適切に組み合わせることが重要
- ④ 地域社会の活動を下支えするソフトの取組みも含み、公共と民間事業も含まれる

No.46

生物多様性における3つのレベルとして、**適切でないもの**を下記より1つ選びなさい。

- ① 種の多様性
- ② 生態系の多様性
- ③ 遺伝子の多様性
- ④ 持続的発展の多様性

No.47

国が指定する天然記念物に関する記述として、**適切でないもの**を下記より1つ選びなさい。

- ① 動物植物・地質鉱物のうち学術上貴重で、わが国の自然を記念するものである
- ② 自然環境保全法に基づき指定される
- ③ 植物の指定基準には名木、巨樹、老樹のほか並木が含まれる
- ④ 代表的な原始林・原野植物群落も植物の指定基準に含まれる

No.48

「環境省レッドリスト2020」のカテゴリーの説明と、それに該当する種の組合せとして、**適切でないもの**を下記より1つ選びなさい。

- ① 絶滅危惧Ⅰ類（CR+EN）は、絶滅の危機に瀕している種で、トキ（*Nipponia nippon*）が該当する
- ② 野生絶滅（EW）は、飼育・栽培下でのみ存続している種で、コウノトリ（*Ciconia boyciana*）が該当する
- ③ 準絶滅危惧（NT）は、生息条件の変化によっては「絶滅危惧」に移行する可能性のある種で、オオタカ（*Accipiter gentilis fujiiyamae*）が該当する
- ④ 絶滅危惧Ⅱ類（VU）は、絶滅の危険が増大している種で、タンチョウ（*Grus japonensis*）が該当する

No.49

以下に示す文章の中で、(A)・(B)にあてはまる語句の組合せとして、**適切なもの**を下記より1つ選びなさい。

(A)は群集内の他種の存続に強い影響力を与え、その種の存在が群集内の安定性をもたらす種、(B)はその存在が生息場所の保護をアピールすることに役立つ種

- ① A：アンブレラ種      B：象徴種
- ② A：キーストーン種      B：指標種
- ③ A：キーストーン種      B：象徴種
- ④ A：アンブレラ種      B：指標種

No.50

日本の植生帯として、**適切でないもの**を下記より1つ選びなさい。

- ① ヤブツバキクラス域（常緑広葉樹林帯）
- ② ブナクラス域（夏緑広葉樹林帯）
- ③ コナラクラス域（里山帯）
- ④ コケモモトウヒクラス域（亜高山帯）

No.51

ヤブツバキクラス域の代償植生として、**適切なもの**を下記より1つ選びなさい。

- ① ヤブコウジースダジイ群集
- ② クリーミズナラ群集
- ③ イノデータブ群集
- ④ コナラークヌギ群集

No.52

植生遷移に関する記述として、**適切でないもの**を下記より1つ選びなさい。

- ① 群落の変化の最終的な遷移段階を極相といい、その過程にある段階を途中相という
- ② 植物や土壌が全くない裸地から始まる遷移を一次遷移という
- ③ クヌギやコナラ林での萌芽更新のような遷移を進行遷移という
- ④ 森林火災などの攪乱後、土壌や種子などが残った状態から始まる遷移を二次遷移という

No.53

我が国の里地里山を構成する要素として、**適切でないもの**を下記より1つ選びなさい。

- ① 原生的な自然
- ② 集落をとりまく二次林
- ③ 農地、ため池
- ④ 河川、草地

No.54

人間が影響を加える直前までの自然植生として、**適切なもの**を下記より1つ選びなさい。

- ① 現存植生
- ② 代償植生
- ③ 原植生
- ④ 潜在自然植生

No.55

国土交通省の「都市公園の樹木の点検・診断に関する指針（案）」において、危険度を判定する樹木診断に関する項目として、**適切でないもの**を下記より1つ選びなさい。

- ① 病虫害の調査
- ② 土壌の調査
- ③ 腐朽の調査
- ④ 樹形の調査

No.56

植生基盤の土壌調査に関する試験方法の説明として、**適切でないもの**を下記より1つ選びなさい。

- ① 長谷川式土壌貫入試験は、深さ 1m 程度までの土壌硬度を確認できる
- ② 長谷川式簡易現場透水試験は、土壌の浸透速度を計測する
- ③ 保水性の確認は手の感触によって簡易な判定が可能である
- ④ 土性の確認は土壌の pH を計測し、生育の適否を判断する

No.57

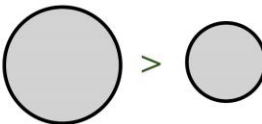

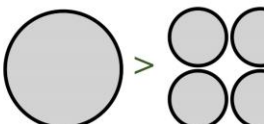

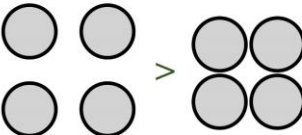

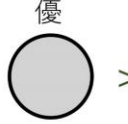

環境アセスメントにおいて、評価する項目や手法を選定する手続きとして、**適切なもの**を下記より1つ選びなさい。

- ① スクリーニング
- ② スコーピング
- ③ ミティゲーション
- ④ フォローアップ

No.58

下図に示す J・ダイヤモンドによる生物生息空間の概念図における優と劣の関係として、**適切でないもの**を下記より 1つ選びなさい。

なお、図形は生息環境の大きさ、配置、形状を示している。

<p>優</p> 	>	<p>劣</p> 
①. なるべく広い方がいい。		
<p>優</p> 	>	<p>劣</p> 
②. 同面積なら分割された状態よりも一つの方がいい。		
<p>優</p> 	>	<p>劣</p> 
③. 分割された空間は分散した方がいい。		
<p>優</p> 	>	<p>劣</p> 
④. 生物空間は丸い方がいい。		

No.59

エコロジカルネットワークを形成する要素として、**適切でないもの**を下記より 1つ選びなさい。

- ① ランドマーク
- ② コリドー
- ③ バッファゾーン
- ④ コアエリア

No.60

日本の里地里山の雑木林で一般的に行われてきた資源利用の営みとして、**適切でないもの**を下記より 1つ選びなさい。

- ① 薪や炭の原料入手
- ② 泥炭の採集
- ③ 堆肥用落ち葉の採集
- ④ キノコや山菜の採集

No.61

自然環境保全に関する事業展開の説明として、**適切でないもの**を下記より1つ選びなさい。

- ① エコツーリズム推進法は、自然環境の保全、観光振興、地域振興、環境教育の場としての活用を基本理念としている
- ② 多自然川づくりでは、地域の暮らしや歴史、文化との調和にも配慮を行う
- ③ エコロードとは、街路樹植栽や雨水浸透などで、ヒートアイランド現象の緩和に配慮した道路をいう
- ④ 自然再生協議会の参加者には、自然再生事業などの活動に参加しようとする地域住民やNPO法人、土地所有者が含まれる

No.62

わが国の世界遺産（自然遺産）のうち、国立公園に指定されていない箇所として、**適切なもの**を下記より1つ選びなさい。

- ① 知床
- ② 白神山地
- ③ 小笠原諸島
- ④ 屋久島

No.63

「生物多様性国家戦略 2012-2020」における「生物多様性の危機」に関する説明として、**適切でないもの**を下記より1つ選びなさい。

- ① 地球温暖化など地球環境の変化による危機
- ② 里地里山での自然に対する人間の働きかけ縮小撤退による危機
- ③ 森林保護、湿地の保全など人間活動の影響が増えたことによる危機
- ④ 外来種や化学物質など人間により持ち込まれたものによる危機

No.64

サクラやモモなどのバラ科の樹木に被害をもたらす外来生物法により特定外来生物に指定されているものとして、**適切なもの**を下記より1つ選びなさい。

- ① カシノナガキクイムシ (*Platypus quercivorus*)
- ② クビアカツヤカミキリ (*Aromia bungii*)
- ③ ケブカトラカミキリ (*Hirticytus comosus Matsushita*)
- ④ マツノマダラカミキリ (*Monochamus alternatus*)

No.65

「ワシントン条約」を説明する記述として、**適切なもの**を下記より1つ選びなさい。

- ① 締約国は、その国に分布する湿地のうち、生態学上、植物学上、動物学上、湖沼学上、または水文学上国際的に重要な湿地を1ヵ所以上指定する
- ② 野生動植物の特定の種が過度の国際取引により絶滅の危機に瀕している事実を踏まえ、その国際取引の規制を輸出国と輸入国と協力する
- ③ 世界的にも際立ってすぐれた価値を有する文化的資産や自然環境を、人類の貴重な遺産として保護していく
- ④ 生態系、生物種、種内（遺伝子）のそれぞれのレベルで生物の多様性を保全し、その持続可能な利用を確保する

No.66

わが国の公園の成り立ちに関する記述として、**適切でないもの**を下記より1つ選びなさい。

- ① 都市公園の健全な発達と公共の福祉の増進に資する為に、都市公園法が制定された
- ② 「東京市区改正条例」では、人口当たり公園面積等を踏まえ各公園の合理的な配置を行った
- ③ わが国で初めての西洋式デザインの公園は上野恩賜公園である
- ④ 明治6年の太政官布達第16号が近代的な公園制度の始まりである



No.67

わが国の代表的な庭園様式名と時代の組合せとして、**適切でないもの**を下記より1つ選びなさい。

- ① 寝殿造り庭園 … 平安時代
- ② 枯山水式庭園 … 室町時代
- ③ 浄土式庭園 … 安土桃山時代
- ④ 池泉回遊式庭園 … 江戸時代

No.68

日本庭園の様式と代表的な庭園の組合せとして、**適切なもの**を下記より1つ選びなさい。

- ① 枯山水 … 無鄰菴庭園
- ② 寝殿造庭園 … 六義園
- ③ 書院式庭園 … 毛越寺庭園
- ④ 池泉回遊式庭園 … 岡山後樂園

No.69

下図に示す灯籠の型の名称として、**適切なもの**を下記より1つ選びなさい。

- ① 春日灯籠
- ② 織部灯籠
- ③ 雪見灯籠
- ④ 遠州灯籠



No.70

フランス平面幾何学式庭園に関する記述として、**適切でないもの**を下記より1つ選びなさい。

- ① 代表的な庭園には、ヴェルサイユ宮殿がある
- ② 丘の斜面を利用した階段状のテラスのある庭園である
- ③ 広大な面積にシンメトリーデザインを取り入れた庭園である
- ④ 左右対称的な軸線でレイアウトされた庭園でビスタが強調されている

No.71

人工湖である昆明湖を中心とする中国最大の庭園の名称として、**適切なもの**を下記より1つ選びなさい。

- ① 拙政園（せつせいえん）
- ② 留園（りゅうえん）
- ③ 円明園（えんめいえん）
- ④ 頤和園（いわえん）

No.72

池泉回遊式庭園として、**適切でないもの**を下記より1つ選びなさい。

- ① 栗林公園
- ② 桂離宮庭園
- ③ 西芳寺庭園
- ④ 東福寺本坊庭園

No.73

作庭者と代表的な庭園の組合せとして、**適切なもの**を下記より1つ選びなさい。

- ① 小堀遠州 … 無鄰菴庭園
- ② 中根金作 … 足立美術館庭園
- ③ 伊藤邦衛 … 仙洞御所
- ④ 小川治兵衛 … 東福寺本坊庭園

No.74

アメリカのランドスケープアーキテクトであるロバート・ザイオンの作品として、**適切でないもの**を下記より1つ選びなさい。

- ① ニューヨーク近代美術館
- ② ペイリーパーク
- ③ トライアングルパーク
- ④ ラブジョイプラザ

No.75

著書とその著作者の組合せとして、**適切でないもの**を下記より1つ選びなさい。

- ① 「明日の田園都市」 … ノーマン・T・ニュートン
- ② 「アーバン ランドスケープ デザイン」 … ガレット・エクボ
- ③ 「ランドスケープ アーキテクチャ」 … ジョン・オームスビー・サイモンズ
- ④ 「ガーデン イン ザ モダン ランドスケープ」 … クリストファー・タナード

No.76

文化財保護法の「特別名勝」に指定されている公園として、**適切なもの**を下記より1つ選びなさい。

- ① 平和記念公園（広島県）
- ② 奈良公園（奈良県）
- ③ 栗林公園（香川県）
- ④ 円山公園（京都）

No.77

官民連携事業（PPP/PFI）に関する記述として、**適切でないもの**を下記より1つ選びなさい。

- ① PFIとは、PFI法に基づき公共施設の建設、維持管理、運営を民間の資金、経営・技術能力を活用して行う手法
- ② PFIには、収益型PFI事業とサービス購入型PFI事業がある
- ③ PFIは、公共施設等が利用者から収入を得られる場合でも、公共の負担は重くなる
- ④ PPPとは、公共施設等の建設、維持管理、運営を行政と民間が連携して行うことである

No.78

「観光立国推進基本法」に関する記述として、**適切でないもの**を下記より1つ選びなさい。

- ① 世界の観光需要を取り込み、地域活性化、雇用拡大等の効果に期待する
- ② 訪日観光の振興は重要だが、国内旅行振興は重要としない
- ③ 観光は、力強い経済を取り戻すための重要な成長分野となる
- ④ 地域が一丸となり、活気あふれた地域社会を築くことが不可欠となる

No.79

エドワード・T・ホールが定義した「コミュニケーション距離」に関する記述として、**適切でないもの**を下記より1つ選びなさい。

- ① 密接距離は、感情が最も強く結びついた間隔が働く距離とされている
- ② 個体距離は、強い感情をやりとりする距離とされている
- ③ 社会距離は、さまざまな種類の通常の情報交換が行われる距離とされている
- ④ 公共距離は、一方通行のコミュニケーションに対応した距離とされている

No.80

ヒートアイランドに関する記述として、**適切でないもの**を下記より1つ選びなさい。

- ① 都市部では、ヒートアイランド現象の進行傾向にあまり変化はみられない
- ② 人間活動によって排出される人工排熱の増加が原因のひとつとされている
- ③ 草地、森林、水田、水面等は人工被覆地に比べて保水力が高いことから主に日中の気温上昇が抑えられる
- ④ 人工被覆地は日射による熱の蓄積が多いことから夜間の気温の低下を妨げる